

**Диагностическая работа
по подготовке к ОГЭ**

по МАТЕМАТИКЕ

**10 февраля 2015 года
9 класс**

Вариант МА90501

Район
Город (населённый пункт)
Школа
Класс
Фамилия
Имя
Отчество

Инструкция по выполнению работы

Общее время работы – 235 минут.

Характеристика работы. Всего в работе 26 заданий, из которых 20 заданий базового уровня (часть 1), 4 задания повышенного уровня (часть 2) и 2 задания высокого уровня сложности (часть 2). Работа состоит из трёх модулей: «Алгебра», «Геометрия», «Реальная математика».

Модуль «Алгебра» содержит 11 заданий: в части 1 – 8 заданий; в части 2 – 3 задания. Модуль «Геометрия» содержит 8 заданий: в части 1 – 5 заданий; в части 2 – 3 задания. Модуль «Реальная математика» содержит 7 заданий: все задания – в части 1.

Советы и указания по выполнению работы. Сначала выполняйте задания части 1. Начать советуем с того модуля, задания которого вызывают у Вас меньше затруднений, затем переходите к другим модулям. Для экономии времени пропускайте задание, которое не удаётся выполнить сразу, и переходите к следующему. Если у Вас останется время, Вы сможете вернуться к пропущенным заданиям.

Все необходимые вычисления, преобразования и т. д. выполняйте в черновике. Если задание содержит рисунок, то на нём непосредственно в тексте работы можно выполнять необходимые Вам построения. Рекомендуем внимательно читать условие и проводить проверку полученного ответа.

Для заданий с выбором ответа (2, 3, 8, 14) из четырёх предложенных вариантов выберите один верный и обведите номер выбранного ответа в тренировочной работе. Если Вы обвели не тот номер, то зачеркните обведённый номер крестиком и затем обведите номер нового ответа.

Если варианты ответа к заданию не приводятся, полученный ответ записывается в отведённом для этого месте. Если в ответе получена обыкновенная дробь, обратите её в десятичную. В случае записи неверного ответа зачеркните его и запишите рядом новый.

Решения заданий части 2 и ответы к ним запишите на отдельном листе. Задания можно выполнять в любом порядке, начиная с любого модуля. Текст задания переписывать не надо, необходимо только указать его номер. Обращаем Ваше внимание на то, что записи в черновике не будут учитываться при оценивании работы. При выполнении работы Вы можете воспользоваться справочными материалами.

Как оценивается работа. Баллы, полученные Вами за верно выполненные задания, суммируются. Для успешного выполнения работы Вам необходимо набрать в сумме не менее 8 баллов, из них не менее 3 баллов по модулю «Алгебра», не менее 2 баллов по модулю «Геометрия» и не менее 2 баллов по модулю «Реальная математика». За каждое правильно выполненное задание части 1 выставляется 1 балл. В каждом модуле части 2 задания расположены по нарастанию сложности и оцениваются в 2, 3 и 4 балла.


Желаем успеха!

Часть 1
Модуль «Алгебра»

1 Найдите значение выражения $(6,9 \cdot 10^{-2})(5 \cdot 10^{-3})$.

Ответ: _____.

2 На координатной прямой точками отмечены числа $\frac{7}{5}$; $\frac{6}{7}$; 0,95; 0,2.



Какому числу соответствует точка A?

- 1) 0,2 2) 0,95 3) $\frac{6}{7}$ 4) $\frac{7}{5}$

Ответ:

3 Значение какого выражения является рациональным числом?

- 1) $\frac{(\sqrt{3})^3}{2}$ 2) $3\sqrt{2^5}$ 3) $\frac{\sqrt{3}}{\sqrt{18}}$ 4) $\sqrt{12} \cdot \sqrt{3}$

Ответ:

4 Решите уравнение $\frac{11}{x-9} = \frac{11}{9}$.

Ответ: _____.

5 На рисунке изображены графики функций вида $y = kx + b$. Установите соответствие между знаками коэффициентов k и b и графиками функций.

КОЭФФИЦИЕНТЫ

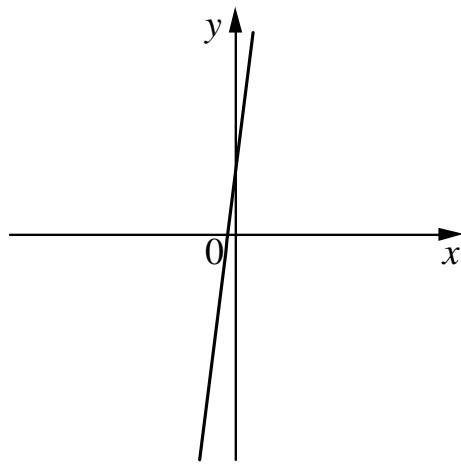
А) $k > 0, b > 0$

Б) $k > 0, b < 0$

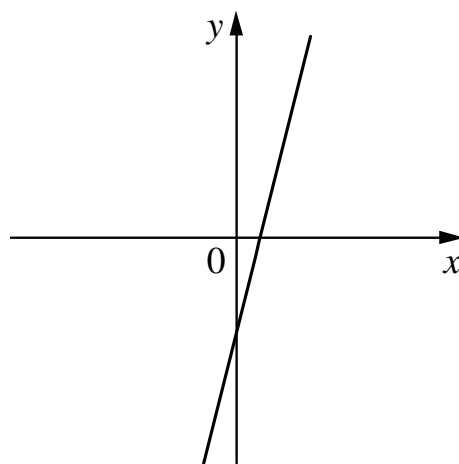
В) $k < 0, b > 0$

ГРАФИКИ

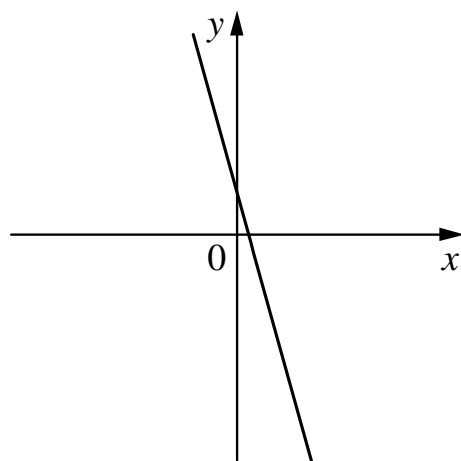
1)



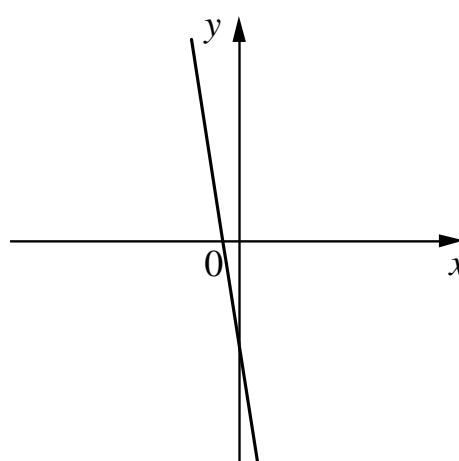
3)



2)



4)



Ответ:

А	Б	В

6 Выписаны первые несколько членов геометрической прогрессии: 5; -10; 20; ...
Найдите сумму первых пяти её членов.

Ответ: _____.

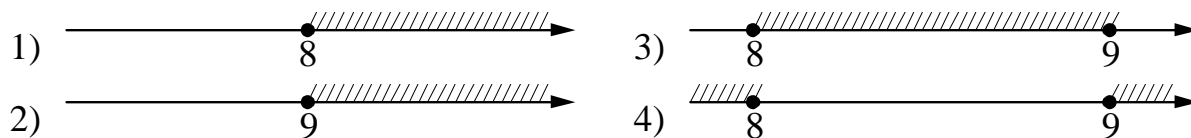
7 Найдите значение выражения $\frac{21}{3a - a^2} - \frac{7}{a}$ при $a = -32$.

Ответ: _____.

8

На каком рисунке изображено множество решений неравенства

$$x^2 - 17x + 72 \geq 0?$$

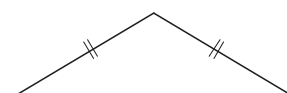


Ответ:

Модуль «Геометрия»

9

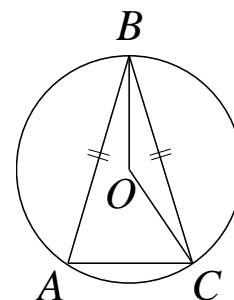
Периметр равнобедренного треугольника равен 36, а основание равно 16. Найдите площадь треугольника.



Ответ: _____.

10

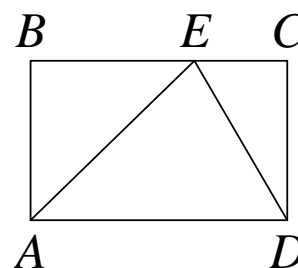
Окружность с центром в точке O описана около равнобедренного треугольника ABC , в котором $AB = BC$ и $\angle ABC = 66^\circ$. Найдите величину угла BOC . Ответ дайте в градусах.



Ответ: _____.

11

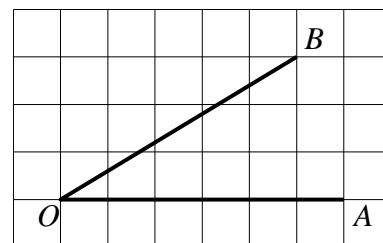
На стороне BC прямоугольника $ABCD$, у которого $AB = 24$ и $AD = 31$, отмечена точка E так, что $\angle EAB = 45^\circ$. Найдите ED .



Ответ: _____.

12

Найдите тангенс угла AOB , изображённого на рисунке.



Ответ: _____.

13 Какое из следующих утверждений верно?

- 1) Все равнобедренные треугольники подобны.
- 2) Существует прямоугольник, диагонали которого взаимно перпендикулярны.
- 3) Сумма углов прямоугольного треугольника равна 90 градусам.

Ответ: _____.

Модуль «Реальная математика»

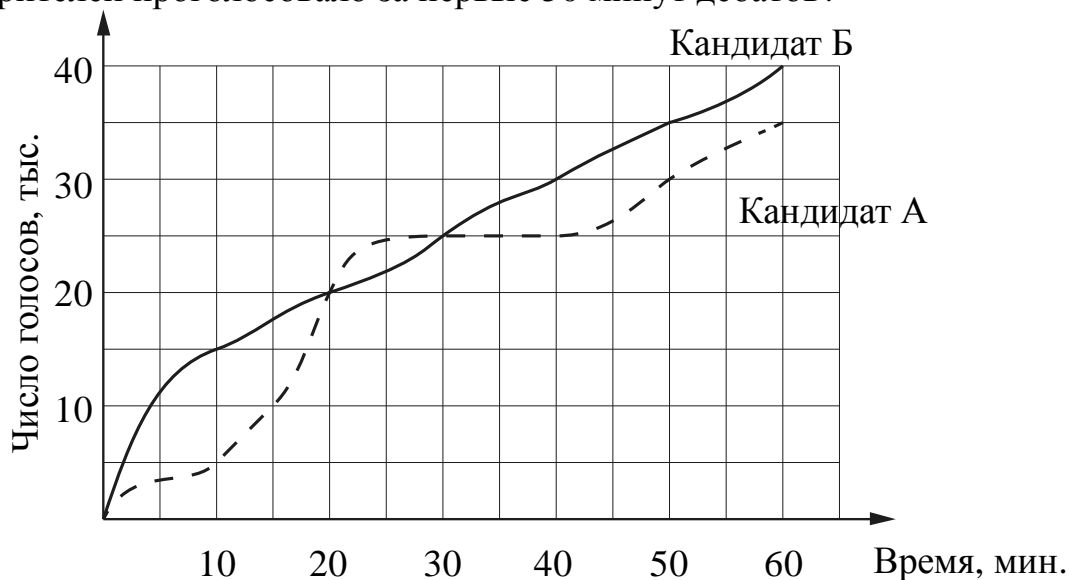
14 Куриные яйца в зависимости от их массы подразделяют на пять категорий: высшая, отборная, первая, вторая и третья. Используя данные, представленные в таблице, определите, к какой категории относится яйцо массой 35,5 г.

Категория	Масса одного яйца, не менее, г
высшая	75,0
отборная	65,0
первая	55,0
вторая	45,0
третья	35,0

- 1) отборная
- 2) первая
- 3) вторая
- 4) третья

Ответ:

15 На графиках показано, как во время телевизионных дебатов между кандидатами А и Б телезрители голосовали за каждого из них. Сколько всего тысяч телезрителей проголосовало за первые 50 минут дебатов?



Ответ: _____.

16 В начале года число абонентов телефонной компании «Юг» составляло 300 тыс. человек, а в конце года их стало 345 тыс. человек. На сколько процентов увеличилось за год число абонентов этой компании?

Ответ: _____.

17 Сколько спиц в колесе, если угол между соседними спицами равен 24° ?

Ответ: _____.

18 На диаграмме показан возрастной состав населения Греции. Определите по диаграмме, какая из возрастных категорий самая малочисленная.



- 1) 0–14 лет 2) 15–50 лет 3) 51–64 лет 4) 65 лет и более

В ответе запишите номер выбранного ответа.

Ответ: _____.

19 В таблице представлены результаты четырёх стрелков, показанные ими на тренировке.

Номер стрелка	Число выстрелов	Число попаданий
1	44	26
2	70	45
3	40	14
4	67	48

Тренер решил послать на соревнования того стрелка, у которого относительная частота попаданий выше. Кого из стрелков выберет тренер? Укажите в ответе его номер.

Ответ: _____.

20

Закон всемирного тяготения можно записать в виде $F = \gamma \frac{m_1 m_2}{r^2}$, где F — сила притяжения между телами (в ньютонах), m_1 и m_2 — массы тел (в килограммах), r — расстояние между центрами масс тел (в метрах), а γ — гравитационная постоянная, равная $6,67 \cdot 10^{-11}$ Н·м²/кг². Пользуясь этой формулой, найдите массу тела m_1 (в килограммах), если $F = 0,00667$ Н, $m_2 = 5 \cdot 10^8$ кг, а $r = 5$ м.

Ответ: _____.

Часть 2

При выполнении заданий 21–26 используйте отдельный лист. Сначала укажите номер задания, а затем запишите его решение и ответ. Пишите чётко и разборчиво.

Модуль «Алгебра»

21

Решите систему уравнений $\begin{cases} 7x^2 - 5x = y, \\ 7x - 5 = y. \end{cases}$

22

Из пункта А в пункт В одновременно выехали два автомобилиста. Первый проехал с постоянной скоростью весь путь. Второй проехал первую половину пути со скоростью, меньшей скорости первого автомобилиста на 9 км/ч, а вторую половину пути проехал со скоростью 60 км/ч, в результате чего прибыл в пункт В одновременно с первым автомобилистом. Найдите скорость первого автомобилиста, если известно, что она больше 40 км/ч.

23

Постройте график функции $y = \frac{(x+1)(x^2+7x+10)}{x+2}$ и определите, при каких значениях m прямая $y = m$ имеет с графиком ровно одну общую точку.

Модуль «Геометрия»

- 24** Окружность, вписанная в треугольник ABC , касается его сторон в точках M , K и P . Найдите углы треугольника ABC , если углы треугольника MKP равны 39° , 78° и 63° .
- 25** Основания BC и AD трапеции $ABCD$ равны соответственно 6 и 24, $BD = 12$. Докажите, что треугольники CBD и BDA подобны.
- 26** В трапеции $ABCD$ боковая сторона AB перпендикулярна основанию BC . Окружность проходит через точки C и D и касается прямой AB в точке E . Найдите расстояние от точки E до прямой CD , если $AD = 4$, $BC = 3$.

**Диагностическая работа
по подготовке к ОГЭ**

по МАТЕМАТИКЕ

**10 февраля 2015 года
9 класс**

Вариант МА90502

Район
Город (населённый пункт)
Школа
Класс
Фамилия
Имя
Отчество

Инструкция по выполнению работы

Общее время работы – 235 минут.

Характеристика работы. Всего в работе 26 заданий, из которых 20 заданий базового уровня (часть 1), 4 задания повышенного уровня (часть 2) и 2 задания высокого уровня сложности (часть 2). Работа состоит из трёх модулей: «Алгебра», «Геометрия», «Реальная математика».

Модуль «Алгебра» содержит 11 заданий: в части 1 – 8 заданий; в части 2 – 3 задания. Модуль «Геометрия» содержит 8 заданий: в части 1 – 5 заданий; в части 2 – 3 задания. Модуль «Реальная математика» содержит 7 заданий: все задания – в части 1.

Советы и указания по выполнению работы. Сначала выполняйте задания части 1. Начать советуем с того модуля, задания которого вызывают у Вас меньше затруднений, затем переходите к другим модулям. Для экономии времени пропускайте задание, которое не удаётся выполнить сразу, и переходите к следующему. Если у Вас останется время, Вы сможете вернуться к пропущенным заданиям.

Все необходимые вычисления, преобразования и т. д. выполняйте в черновике. Если задание содержит рисунок, то на нём непосредственно в тексте работы можно выполнять необходимые Вам построения. Рекомендуем внимательно читать условие и проводить проверку полученного ответа.

Для заданий с выбором ответа (2, 3, 8, 14) из четырёх предложенных вариантов выберите один верный и обведите номер выбранного ответа в тренировочной работе. Если Вы обвели не тот номер, то зачеркните обведённый номер крестиком и затем обведите номер нового ответа.

Если варианты ответа к заданию не приводятся, полученный ответ записывается в отведённом для этого месте. Если в ответе получена обыкновенная дробь, обратите её в десятичную. В случае записи неверного ответа зачеркните его и запишите рядом новый.

Решения заданий части 2 и ответы к ним запишите на отдельном листе. Задания можно выполнять в любом порядке, начиная с любого модуля. Текст задания переписывать не надо, необходимо только указать его номер. Обращаем Ваше внимание на то, что записи в черновике не будут учитываться при оценивании работы. При выполнении работы Вы можете воспользоваться справочными материалами.

Как оценивается работа. Баллы, полученные Вами за верно выполненные задания, суммируются. Для успешного выполнения работы Вам необходимо набрать в сумме не менее 8 баллов, из них не менее 3 баллов по модулю «Алгебра», не менее 2 баллов по модулю «Геометрия» и не менее 2 баллов по модулю «Реальная математика». За каждое правильно выполненное задание части 1 выставляется 1 балл. В каждом модуле части 2 задания расположены по нарастанию сложности и оцениваются в 2, 3 и 4 балла.

Желаем успеха!

Часть 1
Модуль «Алгебра»

1 Найдите значение выражения $0,1 \cdot (-10)^4 + 5 \cdot (-10)^3 + 33$.

Ответ: _____.

2 Какое из следующих чисел заключено между числами $\frac{10}{17}$ и $\frac{5}{8}$?

- 1) 0,4 2) 0,5 3) 0,6 4) 0,7

Ответ:

3 Найдите значение выражения $2\sqrt{3} \cdot \sqrt{2} \cdot 8\sqrt{6}$.

- 1) 96 2) 576 3) 384 4) 24

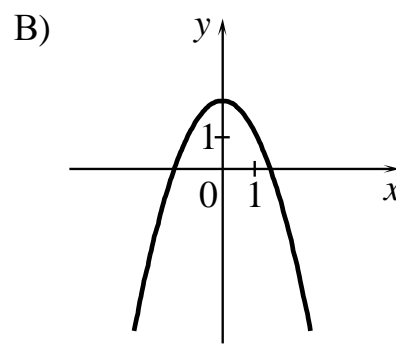
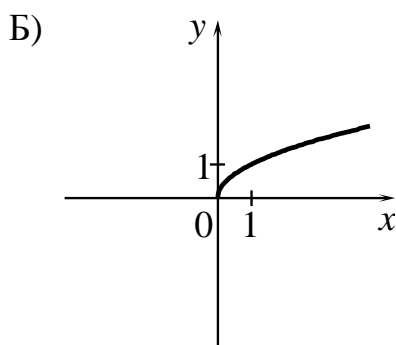
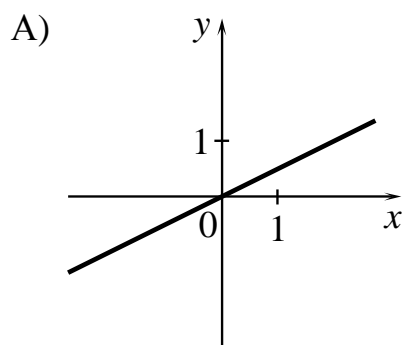
Ответ:

4 Найдите корни уравнения $6x^2 + 24x = 0$.

Ответ: _____.

5 Установите соответствие между графиками функций и формулами, которые их задают.

ГРАФИКИ



ФОРМУЛЫ

- 1) $y = \frac{1}{x}$ 2) $y = \frac{1}{2}x$ 3) $y = 2 - x^2$ 4) $y = \sqrt{x}$

Ответ:

А	Б	В

6 Арифметическая прогрессия задана условиями $a_1 = -2,2$, $a_{n+1} = a_n - 1$.
Найдите сумму первых 9 её членов.

Ответ: _____.

7 Найдите значение выражения $\frac{6a}{c} - \frac{36a^2 + c^2}{6ac} + \frac{c - 36a}{6a}$ при $a = 83$, $c = 80$.

Ответ: _____.

8 Решите неравенство $-3 - x > 4x + 7$.

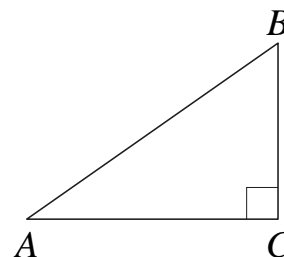
- | | |
|----------------------|----------------------|
| 1) $(-\infty; -0,8)$ | 3) $(-0,8; +\infty)$ |
| 2) $(-2; +\infty)$ | 4) $(-\infty; -2)$ |

Ответ:

Модуль «Геометрия»

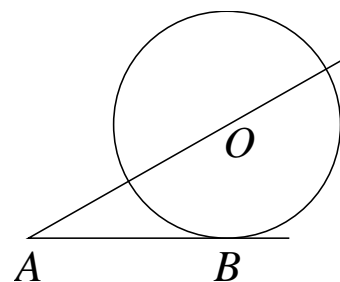
9 В треугольнике ABC угол C прямой, $AC = 9$, $\cos A = 0,3$.
Найдите AB .

Ответ: _____.



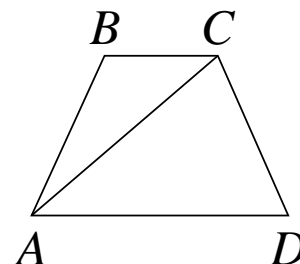
10 К окружности с центром в точке O проведены касательная AB и секущая AO . Найдите радиус окружности, если $AB = 14$, $AO = 50$.

Ответ: _____.

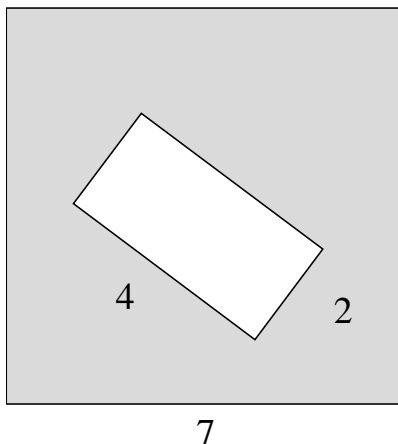


11 В трапеции $ABCD$ $AB = CD$, $AC = AD$ и $\angle ABC = 117^\circ$.
Найдите угол CAD . Ответ дайте в градусах.

Ответ: _____.



- 12** Из квадрата вырезали прямоугольник (см. рисунок). Найдите площадь получившейся фигуры.



Ответ: _____.

- 13** Какое из следующих утверждений верно?

- 1) Внешний угол треугольника равен сумме его внутренних углов.
- 2) Диагонали ромба точкой пересечения делятся пополам.
- 3) Касательная к окружности параллельна радиусу, проведённому в точку касания.

Ответ: _____.

Модуль «Реальная математика»

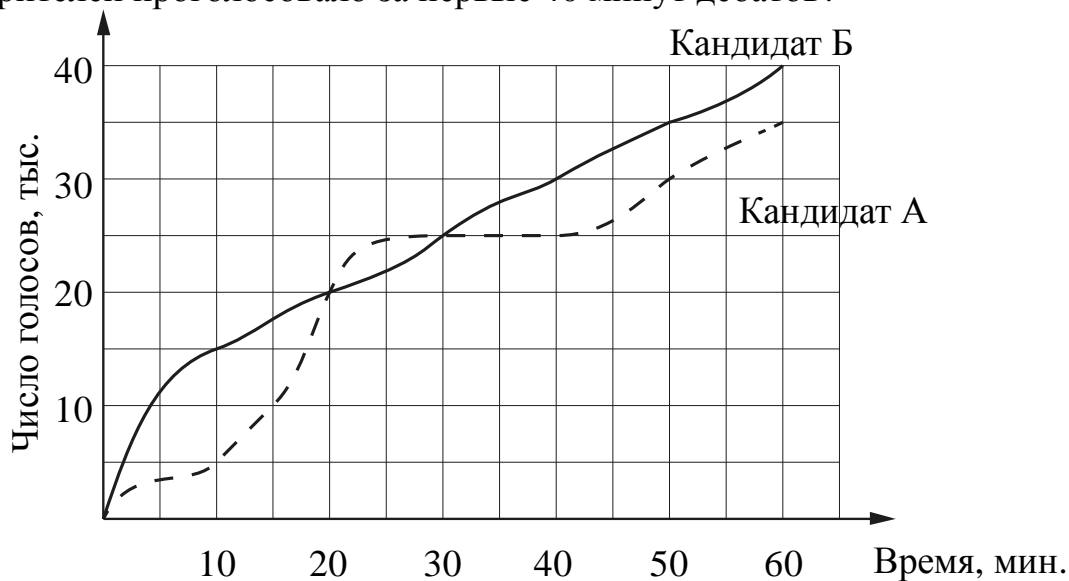
- 14** В таблице приведены нормативы по бегу на 30 м для учащихся 9 класса. Оцените результат девочки, пробежавшей эту дистанцию за 5,35 с.

Отметка	Мальчики			Девочки		
	«5»	«4»	«3»	«5»	«4»	«3»
Время, с	4,6	4,9	5,3	5,0	5,5	5,9

- 1) отметка «5»
- 2) отметка «4»
- 3) отметка «3»
- 4) норматив не выполнен

Ответ:

- 15** На графиках показано, как во время телевизионных дебатов между кандидатами А и Б телезрители голосовали за каждого из них. Сколько всего тысяч телезрителей проголосовало за первые 40 минут дебатов?



Ответ: _____.

- 16** Для приготовления фарша взяли говядину и свинину в отношении 9:1. Какой процент в фарше составляет свинина?

Ответ: _____.

- 17** На какой угол (в градусах) поворачивается минутная стрелка, пока часовая поворачивается на 11° ?

Ответ: _____.

Часть 2

При выполнении заданий 21–26 используйте отдельный лист. Сначала укажите номер задания, а затем запишите его решение и ответ. Пишите чётко и разборчиво.

Модуль «Алгебра»**21**

Решите систему уравнений
$$\begin{cases} (5x+3)^2 = 8y, \\ (3x+5)^2 = 8y. \end{cases}$$

22

Расстояние между пристанями А и В равно 108 км. Из А в В по течению реки отправился плот, а через час вслед за ним отправилась моторная лодка, которая, прибыв в пункт В, тотчас повернула обратно и возвратилась в А. К этому времени плот прошёл 50 км. Найдите скорость лодки в неподвижной воде, если скорость течения реки равна 5 км/ч.

23

Постройте график функции $y = \frac{(x+1)(x^2+7x+12)}{x+3}$ и определите, при каких значениях m прямая $y = m$ имеет с графиком ровно одну общую точку.

Модуль «Геометрия»**24**

Отрезки AB и CD являются хордами окружности. Найдите длину хорды CD , если $AB = 18$, а расстояния от центра окружности до хорд AB и CD равны соответственно 12 и 9.

25

В выпуклом четырёхугольнике $ABCD$ углы BCA и BDA равны. Докажите, что углы ABD и ACD также равны.

26

В треугольнике ABC известны длины сторон $AB = 36$, $AC = 48$, точка O — центр окружности, описанной около треугольника ABC . Прямая BD , перпендикулярная прямой AO , пересекает сторону AC в точке D . Найдите CD .

**Диагностическая работа
по подготовке к ОГЭ**

по МАТЕМАТИКЕ

**10 февраля 2015 года
9 класс**

Вариант МА90503

Район
Город (населённый пункт)
Школа
Класс
Фамилия
Имя
Отчество

Инструкция по выполнению работы

Общее время работы – 235 минут.

Характеристика работы. Всего в работе 26 заданий, из которых 20 заданий базового уровня (часть 1), 4 задания повышенного уровня (часть 2) и 2 задания высокого уровня сложности (часть 2). Работа состоит из трёх модулей: «Алгебра», «Геометрия», «Реальная математика».

Модуль «Алгебра» содержит 11 заданий: в части 1 – 8 заданий; в части 2 – 3 задания. Модуль «Геометрия» содержит 8 заданий: в части 1 – 5 заданий; в части 2 – 3 задания. Модуль «Реальная математика» содержит 7 заданий: все задания – в части 1.

Советы и указания по выполнению работы. Сначала выполняйте задания части 1. Начать советуем с того модуля, задания которого вызывают у Вас меньше затруднений, затем переходите к другим модулям. Для экономии времени пропускайте задание, которое не удаётся выполнить сразу, и переходите к следующему. Если у Вас останется время, Вы сможете вернуться к пропущенным заданиям.

Все необходимые вычисления, преобразования и т. д. выполняйте в черновике. Если задание содержит рисунок, то на нём непосредственно в тексте работы можно выполнять необходимые Вам построения. Рекомендуем внимательно читать условие и проводить проверку полученного ответа.

Для заданий с выбором ответа (2, 3, 8, 14) из четырёх предложенных вариантов выберите один верный и обведите номер выбранного ответа в тренировочной работе. Если Вы обвели не тот номер, то зачеркните обведённый номер крестиком и затем обведите номер нового ответа.

Если варианты ответа к заданию не приводятся, полученный ответ записывается в отведённом для этого месте. Если в ответе получена обыкновенная дробь, обратите её в десятичную. В случае записи неверного ответа зачеркните его и запишите рядом новый.

Решения заданий части 2 и ответы к ним запишите на отдельном листе. Задания можно выполнять в любом порядке, начиная с любого модуля. Текст задания переписывать не надо, необходимо только указать его номер. Обращаем Ваше внимание на то, что записи в черновике не будут учитываться при оценивании работы. При выполнении работы Вы можете воспользоваться справочными материалами.

Как оценивается работа. Баллы, полученные Вами за верно выполненные задания, суммируются. Для успешного выполнения работы Вам необходимо набрать в сумме не менее 8 баллов, из них не менее 3 баллов по модулю «Алгебра», не менее 2 баллов по модулю «Геометрия» и не менее 2 баллов по модулю «Реальная математика». За каждое правильно выполненное задание части 1 выставляется 1 балл. В каждом модуле части 2 задания расположены по нарастанию сложности и оцениваются в 2, 3 и 4 балла.

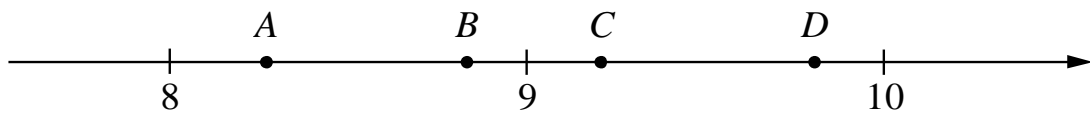
Желаем успеха!

Часть 1
Модуль «Алгебра»

1 Найдите значение выражения $\frac{1}{\frac{1}{33} + \frac{1}{12}}$.

Ответ: _____.

2 На координатной прямой отмечены точки A , B , C , D . Одна из них соответствует числу $\sqrt{85}$. Какая это точка?



- 1) точка A 2) точка B 3) точка C 4) точка D

Ответ:

3 Найдите значение выражения $\sqrt{6 \cdot 40} \cdot \sqrt{90}$.

- 1) $60\sqrt{6}$ 2) $60\sqrt{30}$ 3) $180\sqrt{2}$ 4) $120\sqrt{3}$

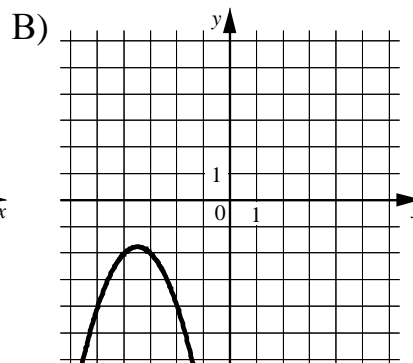
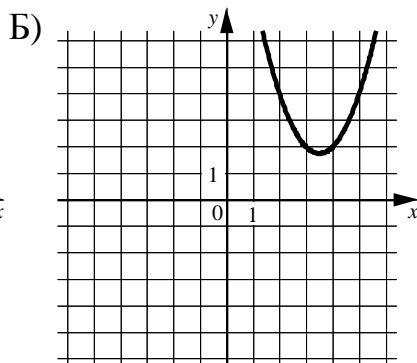
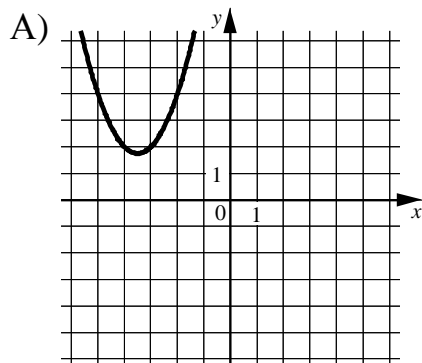
Ответ:

4 Квадратный трёхчлен разложен на множители: $4x^2 - 29x + 45 = 4(x-5)(x-a)$.
Найдите a .

Ответ: _____.

5 Установите соответствие между графиками функций и формулами, которые их задают.

ГРАФИКИ



ФОРМУЛЫ

1) $y = -x^2 + 7x - 14$

3) $y = x^2 + 7x + 14$

2) $y = x^2 - 7x + 14$

4) $y = -x^2 - 7x - 14$

Ответ:

А	Б	В

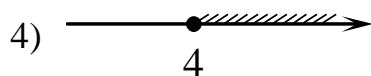
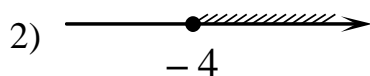
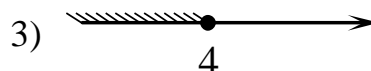
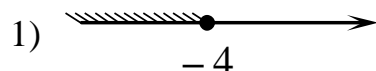
6 Дана арифметическая прогрессия (a_n) , разность которой равна 9,1, $a_1 = -8,1$. Найдите сумму первых 8 её членов.

Ответ: _____.

7 Найдите значение выражения $\frac{a^2 - 36}{2a^2 + 12a}$ при $a = -0,3$.

Ответ: _____.

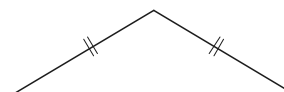
8 На каком рисунке изображено множество решений неравенства $x - (8 - 3x) \geq 6x$?



Ответ:

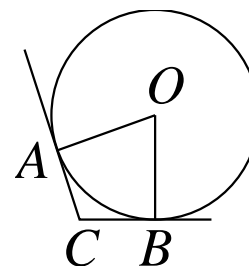
Модуль «Геометрия»

9 Периметр равнобедренного треугольника равен 32, а основание равно 12. Найдите площадь треугольника.



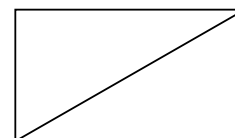
Ответ: _____.

10 В угол C величиной 157° вписана окружность с центром в точке O , которая касается сторон угла в точках A и B . Найдите угол AOB . Ответ дайте в градусах.



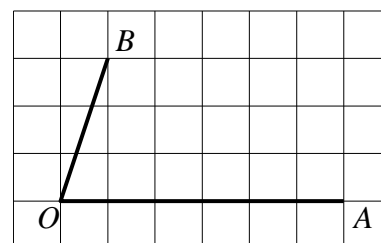
Ответ: _____.

11 В прямоугольнике одна сторона равна 42, а диагональ равна 70. Найдите площадь прямоугольника.



Ответ: _____.

12 Найдите тангенс угла AOB , изображённого на рисунке.



Ответ: _____.

13 Какое из следующих утверждений верно?

- 1) В тупоугольном треугольнике все углы тупые.
- 2) Диагонали прямоугольной трапеции равны.
- 3) Существует прямоугольник, диагонали которого взаимно перпендикулярны.

Ответ: _____.

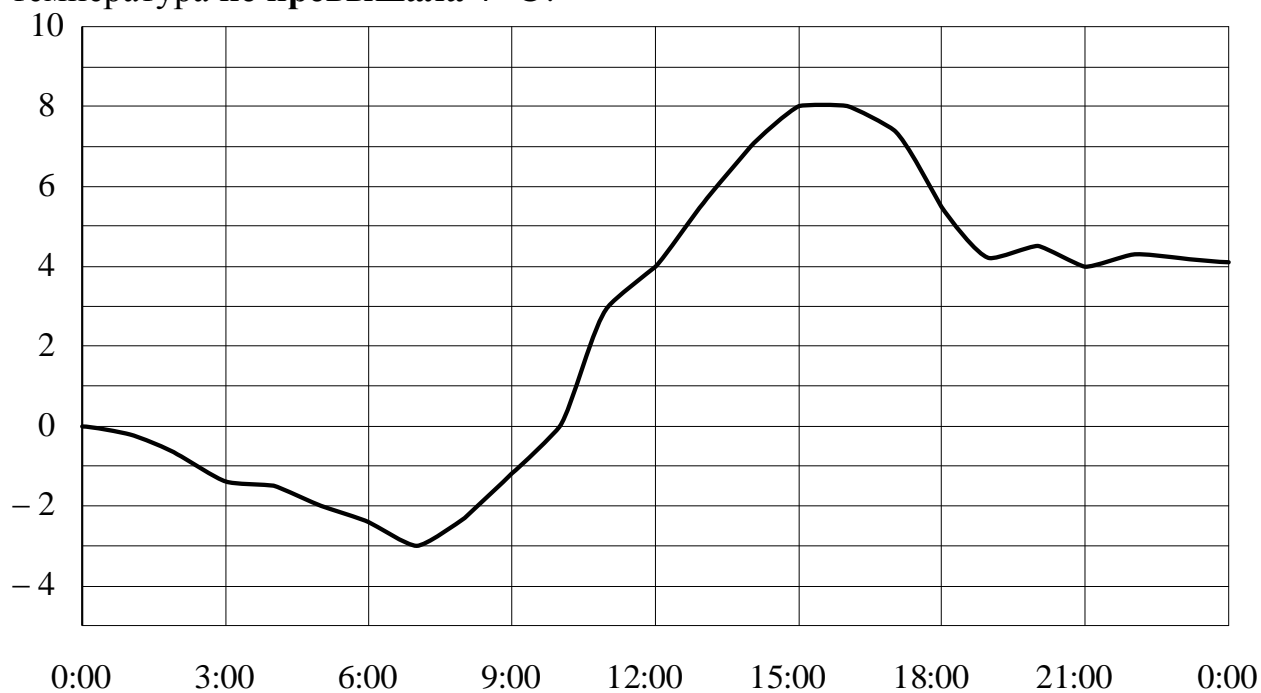
Модуль «Реальная математика»

14 Население Австралии составляет $1,8 \cdot 10^7$ человек, а площадь её территории равна $7,7 \cdot 10^6$ км². Сколько в среднем приходится жителей на 1 км²?

- 1) примерно 4,3 человека 3) примерно 0,43 человека
2) примерно 2,3 человека 4) примерно 0,23 человека

Ответ:

15 На рисунке показано, как изменялась температура воздуха на протяжении одних суток. По горизонтали указано время суток, по вертикали — значение температуры в градусах Цельсия. Сколько часов в первой половине суток температура **не превышала** 4 °С?



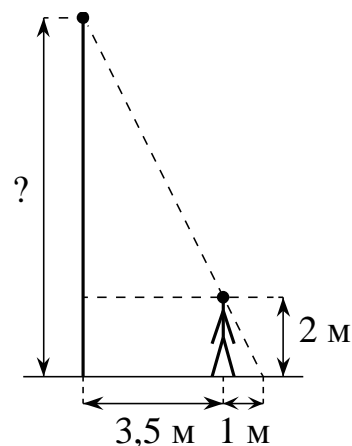
Ответ: _____.

16 Товар на распродаже уценили на 40 %, при этом он стал стоить 810 руб. Сколько рублей стоил товар до распродажи?

Ответ: _____.

- 17** Человек, рост которого равен 2 м, стоит на расстоянии 3,5 м от уличного фонаря. При этом длина тени человека равна 1 м. Определите высоту фонаря (в метрах).

Ответ: _____.

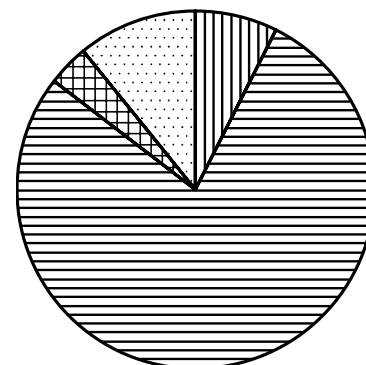
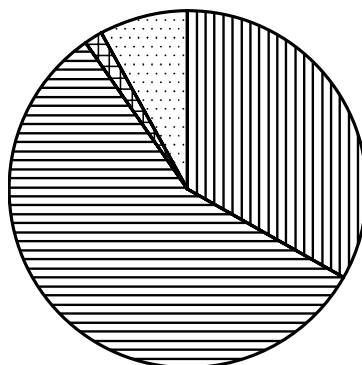
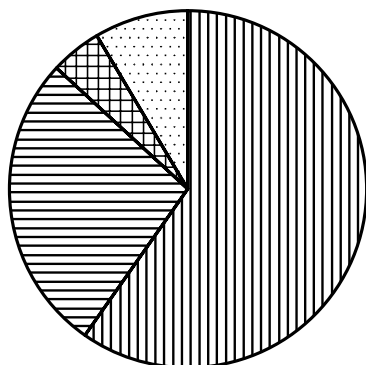


- 18** На диаграммах показано распределение земель Уральского, Приволжского, Южного федеральных округов и Сибири по категориям. Определите по диаграмме, в каких округах доля земель лесного фонда превышает 50%.

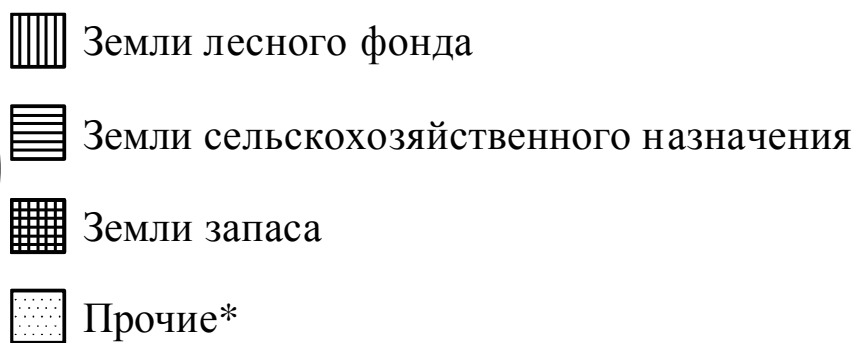
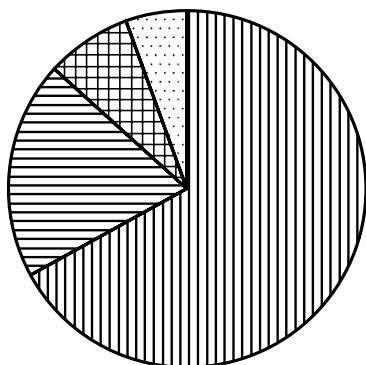
Уральский ФО

Приволжский ФО

Южный ФО



Сибирь



*Прочие — это земли поселений; земли промышленности и иного специального назначения; земли особо охраняемых территорий и объектов.

- | | |
|-------------------|-------------|
| 1) Уральский ФО | 3) Южный ФО |
| 2) Приволжский ФО | 4) Сибирь |

В ответе запишите номера выбранных ответов.

Ответ: _____.

- 19** В каждой двадцать пятой банке кофе согласно условиям акции есть приз. Призы распределены по банкам случайно. Коля покупает банку кофе в надежде выиграть приз. Найдите вероятность того, что Коля **не найдёт** приз в своей банке.

Ответ: _____.

- 20** Зная длину своего шага, человек может приближённо подсчитать пройденное им расстояние s по формуле $s = nl$, где n — число шагов, l — длина шага. Какое расстояние прошёл человек, если $l = 50$ см, $n = 1100$? Ответ выразите в километрах.

Ответ: _____.

Часть 2

При выполнении заданий 21–26 используйте отдельный лист. Сначала укажите номер задания, а затем запишите его решение и ответ. Пишите чётко и разборчиво.

Модуль «Алгебра»

- 21** Решите систему уравнений
$$\begin{cases} 3x^2 - 2x = y, \\ 3x - 2 = y. \end{cases}$$

- 22** Теплоход проходит по течению реки до пункта назначения 140 км и после стоянки возвращается в пункт отправления. Найдите скорость теплохода в неподвижной воде, если скорость течения равна 5 км/ч, стоянка длится 11 часов, а в пункт отправления теплоход возвращается через 32 часа после отплытия из него.

- 23** Найдите все значения k , при каждом из которых прямая $y = kx$ имеет с графиком функции $y = -x^2 - 2,25$ ровно одну общую точку. Постройте этот график и все такие прямые.

Модуль «Геометрия»

24 Биссектрисы углов A и B при боковой стороне AB трапеции $ABCD$ пересекаются в точке F . Найдите AB , если $AF = 12$, $BF = 5$.

25 Высоты BB_1 и CC_1 остроугольного треугольника ABC пересекаются в точке E . Докажите, что углы BB_1C_1 и BCC_1 равны.

26 В треугольнике ABC известны длины сторон $AB = 32$, $AC = 64$, точка O — центр окружности, описанной около треугольника ABC . Прямая BD , перпендикулярная прямой AO , пересекает сторону AC в точке D . Найдите CD .

**Диагностическая работа
по подготовке к ОГЭ**

по МАТЕМАТИКЕ

**10 февраля 2015 года
9 класс**

Вариант МА90504

Район
Город (населённый пункт)
Школа
Класс
Фамилия
Имя
Отчество

Инструкция по выполнению работы

Общее время работы – 235 минут.

Характеристика работы. Всего в работе 26 заданий, из которых 20 заданий базового уровня (часть 1), 4 задания повышенного уровня (часть 2) и 2 задания высокого уровня сложности (часть 2). Работа состоит из трёх модулей: «Алгебра», «Геометрия», «Реальная математика».

Модуль «Алгебра» содержит 11 заданий: в части 1 – 8 заданий; в части 2 – 3 задания. Модуль «Геометрия» содержит 8 заданий: в части 1 – 5 заданий; в части 2 – 3 задания. Модуль «Реальная математика» содержит 7 заданий: все задания – в части 1.

Советы и указания по выполнению работы. Сначала выполняйте задания части 1. Начать советуем с того модуля, задания которого вызывают у Вас меньше затруднений, затем переходите к другим модулям. Для экономии времени пропускайте задание, которое не удаётся выполнить сразу, и переходите к следующему. Если у Вас останется время, Вы сможете вернуться к пропущенным заданиям.

Все необходимые вычисления, преобразования и т. д. выполняйте в черновике. Если задание содержит рисунок, то на нём непосредственно в тексте работы можно выполнять необходимые Вам построения. Рекомендуем внимательно читать условие и проводить проверку полученного ответа.

Для заданий с выбором ответа (2, 3, 8, 14) из четырёх предложенных вариантов выберите один верный и обведите номер выбранного ответа в тренировочной работе. Если Вы обвели не тот номер, то зачеркните обведённый номер крестиком и затем обведите номер нового ответа.

Если варианты ответа к заданию не приводятся, полученный ответ записывается в отведённом для этого месте. Если в ответе получена обыкновенная дробь, обратите её в десятичную. В случае записи неверного ответа зачеркните его и запишите рядом новый.

Решения заданий части 2 и ответы к ним запишите на отдельном листе. Задания можно выполнять в любом порядке, начиная с любого модуля. Текст задания переписывать не надо, необходимо только указать его номер. Обращаем Ваше внимание на то, что записи в черновике не будут учитываться при оценивании работы. При выполнении работы Вы можете воспользоваться справочными материалами.

Как оценивается работа. Баллы, полученные Вами за верно выполненные задания, суммируются. Для успешного выполнения работы Вам необходимо набрать в сумме не менее 8 баллов, из них не менее 3 баллов по модулю «Алгебра», не менее 2 баллов по модулю «Геометрия» и не менее 2 баллов по модулю «Реальная математика». За каждое правильно выполненное задание части 1 выставляется 1 балл. В каждом модуле части 2 задания расположены по нарастанию сложности и оцениваются в 2, 3 и 4 балла.

Желаем успеха!

Часть 1
Модуль «Алгебра»

1 Найдите значение выражения $(2 \cdot 10^3)^2 \cdot (12 \cdot 10^{-3})$.

Ответ: _____.

2 Какому промежутку принадлежит число $\sqrt{89}$?

- 1) [8; 9] 2) [9; 10] 3) [10; 11] 4) [11; 12]

Ответ:

3 Найдите значение выражения $\frac{\sqrt{343}}{\sqrt{7}}$.

- 1) $7\sqrt{7}$ 2) 49 3) $49\sqrt{7}$ 4) 7

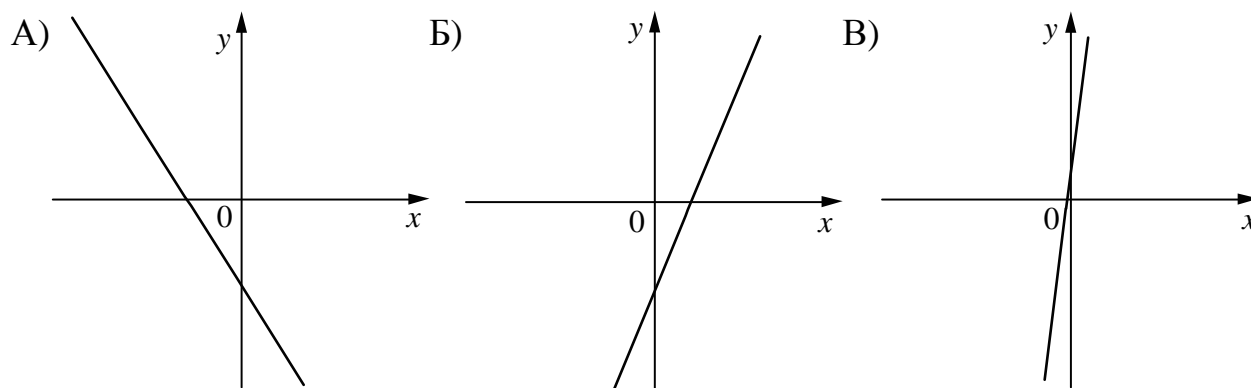
Ответ:

4 Найдите корни уравнения $3x^2 + 18x = 0$.

Ответ: _____.

5 На рисунке изображены графики функций вида $y = kx + b$. Установите соответствие между графиками функций и знаками коэффициентов k и b .

ГРАФИКИ



КОЭФФИЦИЕНТЫ

- 1) $k < 0, b > 0$ 2) $k < 0, b < 0$ 3) $k > 0, b < 0$ 4) $k > 0, b > 0$

Ответ:

А	Б	В
<input type="checkbox"/>	<input type="checkbox"/>	<input type="checkbox"/>

6 Последовательность задана формулой $a_n = \frac{51}{n+1}$. Сколько членов этой последовательности больше 5?

Ответ: _____.

7 Найдите значение выражения $\frac{a^2-16b^2}{4ab} : \left(\frac{1}{4b} - \frac{1}{a}\right)$ при $a = 3\frac{1}{13}$, $b = 4\frac{3}{13}$.

Ответ: _____.

8 Решите неравенство $6x - 2(2x + 9) > 4$.

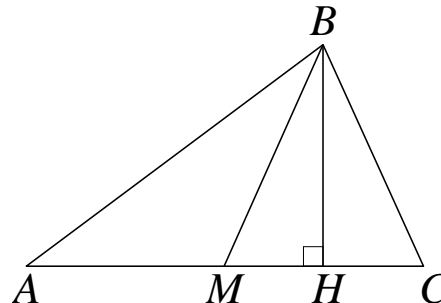
- 1) $(-\infty; -7)$ 2) $(-7; +\infty)$ 3) $(-\infty; 11)$ 4) $(11; +\infty)$

Ответ:

Модуль «Геометрия»

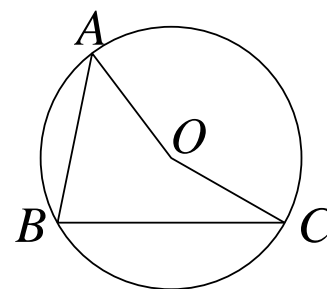
9 В треугольнике ABC BM – медиана и BH – высота. Известно, что $AC = 17$ и $BC = BM$. Найдите AH .

Ответ: _____.



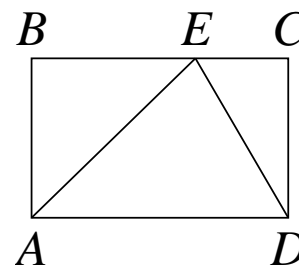
10 Точка O – центр окружности, на которой лежат точки A , B и C . Известно, что $\angle ABC = 75^\circ$ и $\angle OAB = 43^\circ$. Найдите угол BCO . Ответ дайте в градусах.

Ответ: _____.



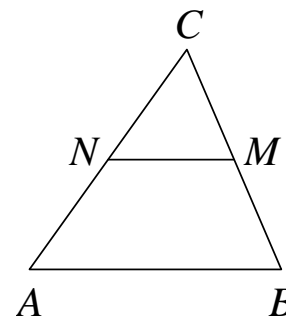
- 11** На стороне BC прямоугольника $ABCD$, у которого $AB = 24$ и $AD = 31$, отмечена точка E так, что $\angle EAB = 45^\circ$. Найдите ED .

Ответ: _____.



- 12** В треугольнике ABC отмечены середины M и N сторон BC и AC соответственно. Площадь треугольника CNM равна 57. Найдите площадь четырёхугольника $ABMN$.

Ответ: _____.



- 13** Какое из следующих утверждений верно?

- 1) Любой прямоугольник можно вписать в окружность.
- 2) Все углы ромба равны.
- 3) Диагональ трапеции делит её на два равных треугольника.

Ответ: _____.

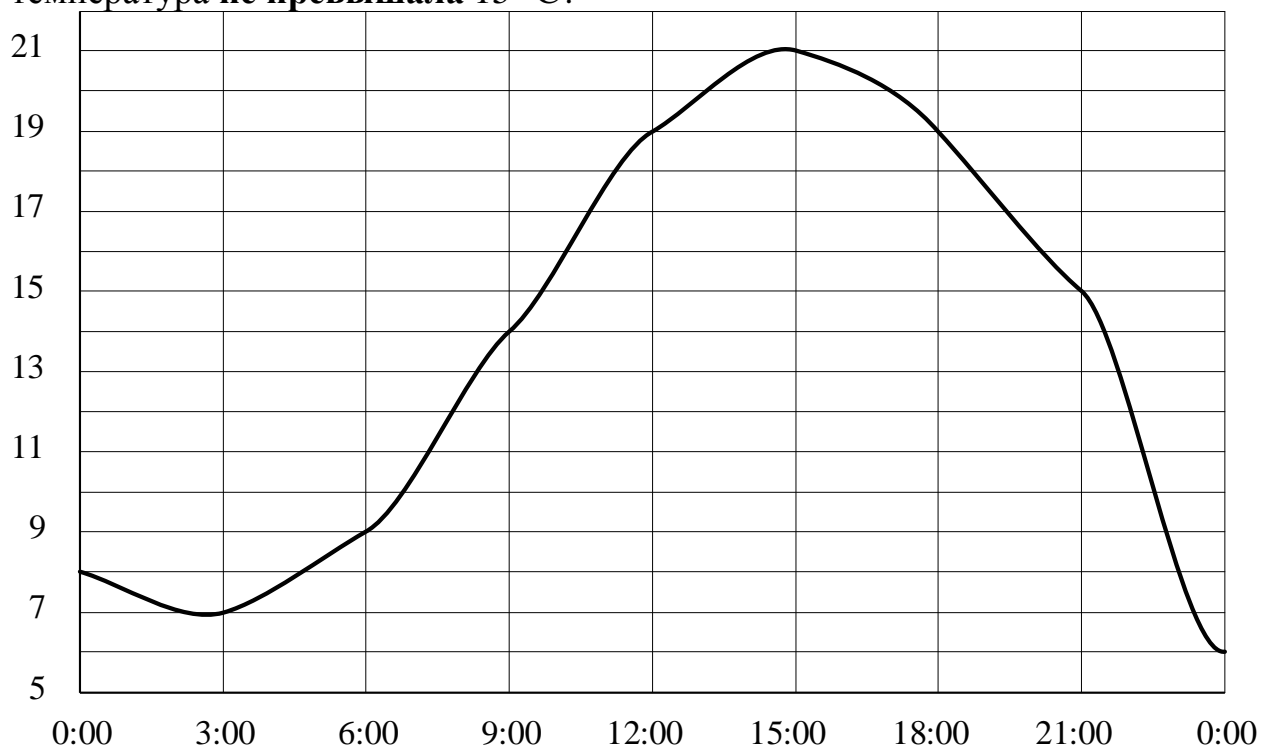
Модуль «Реальная математика»

- 14** Площадь территории США составляет $9,5 \cdot 10^6$ км², а Швейцарии — $4,1 \cdot 10^4$ км². Во сколько раз площадь территории США больше площади территории Швейцарии?

- | | |
|-----------------------|------------------------|
| 1) примерно в 23 раза | 3) примерно в 43 раза |
| 2) примерно в 230 раз | 4) примерно в 2,3 раза |

Ответ:

- 15** На рисунке показано, как изменялась температура воздуха на протяжении одних суток. По горизонтали указано время суток, по вертикали — значение температуры в градусах Цельсия. Сколько часов во второй половине суток температура **не превышала** $15\text{ }^{\circ}\text{C}$?



Ответ: _____.

- 16** Число дорожно-транспортных происшествий в летний период составило 0,87 числа ДТП в зимний период. На сколько процентов уменьшилось число дорожно-транспортных происшествий летом по сравнению с зимой?

Ответ: _____.

- 17** Две трубы, диаметры которых равны 14 см и 48 см, требуется заменить одной, площадь поперечного сечения которой равна сумме площадей поперечных сечений двух данных. Каким должен быть диаметр новой трубы? Ответ дайте в сантиметрах.

Ответ: _____.

Часть 2

При выполнении заданий 21–26 используйте отдельный лист. Сначала укажите номер задания, а затем запишите его решение и ответ. Пишите чётко и разборчиво.

Модуль «Алгебра»

21 Решите уравнение $x^6 = (7x - 6)^3$.

22 Первые 5 часов автомобиль ехал со скоростью 110 км/ч, следующие 3 часа — со скоростью 50 км/ч, а последние 3 часа — со скоростью 60 км/ч. Найдите среднюю скорость автомобиля на протяжении всего пути.

23 Постройте график функции $y = \frac{1}{2} \left(\left| \frac{x}{4} - \frac{4}{x} \right| + \frac{x}{4} + \frac{4}{x} \right)$ и определите, при каких значениях m прямая $y = m$ имеет с графиком ровно одну общую точку.

Модуль «Геометрия»

24 Вершины треугольника делят описанную около него окружность на три дуги, длины которых относятся как 6:7:23. Найдите радиус окружности, если меньшая из сторон равна 11.

25 Основания BC и AD трапеции $ABCD$ равны соответственно 6 и 24, $BD = 12$. Докажите, что треугольники CBD и BDA подобны.

26 В треугольнике ABC на его медиане BM отмечена точка K так, что $BK : KM = 7 : 3$. Найдите отношение площади треугольника ABK к площади треугольника ABC .